

+ - × ÷ + - × ÷ + - × ÷ + - × ÷


Anexo 3



Tabla de 100

1	2	3	4	5	6	7	8	9	10
11	12	13	14	15	16	17	18	19	20
21	22	23	24	25	26	27	28	29	30
31	32	33	34	35	36	37	38	39	40
41	42	43	44	45	46	47	48	49	50
51	52	53	54	55	56	57	58	59	60
61	62	63	64	65	66	67	68	69	70
71	72	73	74	75	76	77	78	79	80
81	82	83	84	85	86	87	88	89	90
91	92	93	94	95	96	97	98	99	100

RECORTA Y MONTA
LA TABLA DEL 100



6	7	8	9	10	
16	17	18	19	20	
25	26	27	28	29	30
35	36	37	38	39	
46	47	48			

1	2	3	4	5
11	12	13	14	15
21	22	23	24	
31	32	33	34	
41			44	


	42	43	
51	52	53	54
61	62	63	
71	72	73	74
81	82	83	
91	92		

45		
55	56	57
64	65	66
	76	

	75		77		79		
84	85	86	87	88	89	90	
93	94	95	96	97	98	99	100

			40
		49	50
	58	59	60
67	68	69	70
	78		80

**RECORTA Y MONTA
LA TABLA DEL 100**



En esta tabla faltan 4 números.
¿Cuáles son?

35	36		
45	46	47	
55	56	57	58
65	66	67	
75	76	77	
	86	87	88
	96	97	98

39	40	
49	50	
59	60	
69	70	
78	79	80
89	90	
99	100	

		23	
31	32	33	34
41	42	43	44
51		53	54
61			64

7	8	9	10
	18	19	20

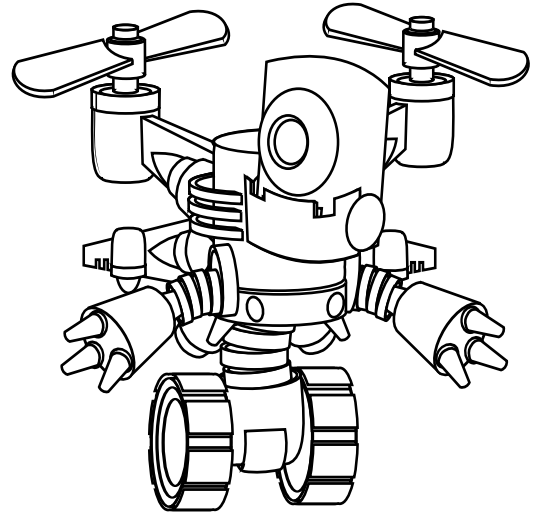
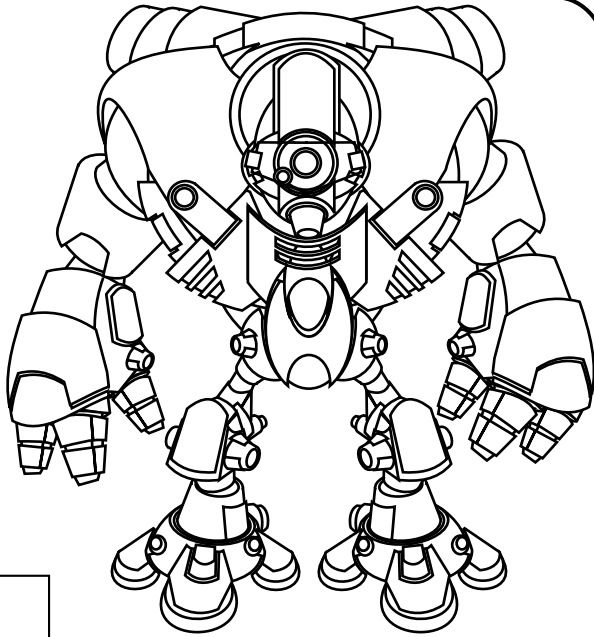
26	27	28	29	30
	37	38		
		48		

	62	63		
71	72	73	74	
81	82	83	84	85
91	92		94	95

1	2	3	4	5	6	
11	12	13	14	15	16	17
	22		24	25		

NUMERACIÓN HASTA EL 100

¿Cuál de los dos robot tiene entre sus piezas los números 25 y 45 más veces?



Crossword puzzle for the large robot:

- Vertical word: 17
- Vertical word: 3
- Vertical word: 64
- Vertical word: 67

Crossword puzzle for the small robot:

- Vertical word: 65
- Vertical word: 2
- Vertical word: 47
- Vertical word: 37